

Zestaw pytań nr 1

ZALOGA Nr



MUZEUM POWSTAŃCÓW WIELKOPOLSKICH w LUSOWIE

1. Jaki napis znajduje się na rzeźbie przy wejściu do Muzeum? (10 pkt)

.....

2. W zbiorach Muzeum mamy wiele cennych pamiątek, w tym m.in. Krzyż „Wielkopolska Matkom Poległych”, który wraz z patentem potwierdzającym jego nadanie otrzymała Hulda Adamska matka poległego powstańca Wilhelma. W jakim oddziale służył Wilhelm Adamski? (10 pkt)

.....

3. W jednej z gablot w sali na dole stoi znajduje się mundur kobiety- weteranki powstania wielkopolskiego- jak się nazywała? (10 pkt)

.....

4. Proszę podać imiona, daty (wystarczy rok) i miejsca urodzin wszystkich dzieci generała Józefa Dowbora Muśnickiego. (10 pkt)

.....

5. Wymienić liczbę sztandarów i chorągwi wiszących w Muzeum. (10 pkt)

.....

6. W jednej z gablot w Sali na dole znajduje się menażka (lub inne podobne do niej naczynie wojskowe).
Proszę podać treść napisu, który na niej się znajduje. (10 pkt)

.....

7. Ile medali (nie odznaczeń) znajduje się na mundurze kombatantkim Henryka Jaworowskiego. (10 pkt)

.....

8. Proszę podać tytuły przynajmniej 4 książek prezentowanych w gablotach na środku w sali na dole. (10 pkt)

-
.....
.....
9. W zbiorach Muzeum znajduje się również bezcenny dar zeszyt jednej z uczennic szkółki przy parafii w Konarzewie; jaka data widnieje przy lekcji: „Rozważania o Polsce”? (10 pkt)

-
10. Jak nazywało się letnisko, które w latach międzywojennych w Lusowie prowadził generał Józef Dowbor Muśnicki? (10 pkt)
-

Możliwa ilość punktów do uzyskania:

100

Punkty uzyskane:


UWAGA:

Pytania konkursowe zostały opracowane przez pracowników Muzeum Powstańców Wielkopolskich im. gen. Józefa Dowbora-Muśnickiego w Lusowie, za co im serdecznie dziękujemy.



Zestaw pytań nr 2

ZAŁOGA Nr








NOWY TOMYŚL


Przeczytaj i zapamiętaj:

1. Idź na spacer trasą zaznaczoną na mapce – ostatnia strona niniejszego zestawu pytań.
2. Całkowita długość trasy od Pl. Niepodległości do ul. Topolowej i z powrotem plus obejście kwartału kilku ulic to około 3,5 km. Wg organizatorów pobyt w tym mieście powinien zająć około 2 – 2,5 godzin – nie licząc czasu na ewentualną kawkę na trasie spaceru. Oczywiście możesz korzystać z samochodu dla skrócenia czasu.
3. Informujemy, że czas dojazdu z tego miasta do mety to około 15 minut.
4. Uwaga: ORGANIZATORZY PODJĘLI DECYZJĘ – **KOLACJA O GODZ. 19.00.**
5. Spacerując trasą wg mapki:
 - a. Odpowiedz na pytania zamieszczone na następnych stronach. (fotografie nie są ułożone we właściwej kolejności).
 - b. Będąc na ul. Topolowej wejdź w aleję prowadzącą do ZOO. Zaraz na początku tej alei po prawej stronie jest brama z furką. Wejdź na teren tego obiektu. To co zobaczysz i czego się dowiesz wykorzystaj również do odpowiedzi na pytania.
 - c. Radzimy zacząć od ul. Topolowej.

Życzymy miłego i atrakcyjnego spaceru.

1. Na trasie spaceru po Nowym Tomyślu zobaczysz dwa obiekty będące przykładem budownictwa olęderskiego.
 - 1.1 Jakie to są obiekty?
..... 
 - i
(20 + 20 pkt) 
 - 1.2 Gdzie dokładnie one się znajdują? (10 pkt)
..... 
 - 1.3 Kim byli ci olędrzy? (10 pkt)
..... 
2. W sensie historycznym największymi odbiorcami chmielu były browary zlokalizowane w powiecie (20 pkt)
.....
3. Kogo uważa się za założyciela Nowego Tomyśla? (20 pkt)
..... 

4. Jak nazywają tę postać (fotografia **A** poniżej) i gdzie ona się znajduje (10 pkt)



5. Jak nazywa się zegar, który można zobaczyć na tej samej ulicy co postać na tej samej fotografii **A**? (10 pkt)



6. Z czyjej fundacji powstał obiekt, który znajduje się w tle zdjęcia przedstawiającego popiersie Fryderyka Chopina? (10 pkt)




7. Na podstawie poniższej kopii przedwojennej pocztówki określ, co obecnie znajduje się w tym budynku (10 pkt)



8. Jak nazywa się ta wiklinowa rzeźba? (10 pkt)



9. Jaka roślina widnieje pod herbem Nowego Tomyśla umieszczonego na tej ozdobnej bramie? (10 pkt)



10. Jakiego świętego przedstawia rzeźba znajdująca się w pobliżu tego obiektu (fotografia z prawej) (10 pkt)



11. Na podstawie poniższej kopii starej pocztówki określ jakich dwóch elementów brakuje we współczesnej panoramie miasta (20 pkt)




12. Zlokalizuj ten obiekt i podaj jego wymiary (10 pkt)



13. Jaką nazwę nosi fontanna znajdująca się w pobliżu tego obiektu (10 pkt)




14. Zlokalizuj to miejsce (fot. **B** poniżej), dowiedz się jak się nazywa restauracja się w pobliskim budynku (10 pkt)



15. Zlokalizuj obiekt (fot. **C powyżej**), podaj jego nazwę i podaj również jakie dwa obiekty o charakterze kulturalnym znajdują się w pobliżu (10 pkt)

.....



16. Na podstawie poniższej kopii starej pocztówki określ co obecnie znajduje się w tym obiekcie (10 pkt)

.....



17. Na podstawie poniżej przedstawionej kopii przedwojennego zdjęcia dowiedz się, co przedstawia ten obiekt i gdzie się znajdował (podaj nazwę ulicy) (10 pkt)

.....



18. Co to jest?
(10 pkt)

.....
.....



19. Co to jest? (10 pkt)

.....
.....



20. Czym szczególnie
charakteryzują się te
koszyczki (10 pkt)

.....
.....



21. Co to jest?
(10 pkt)

.....
.....



22. Co to są sztabry? (10 pkt)

.....



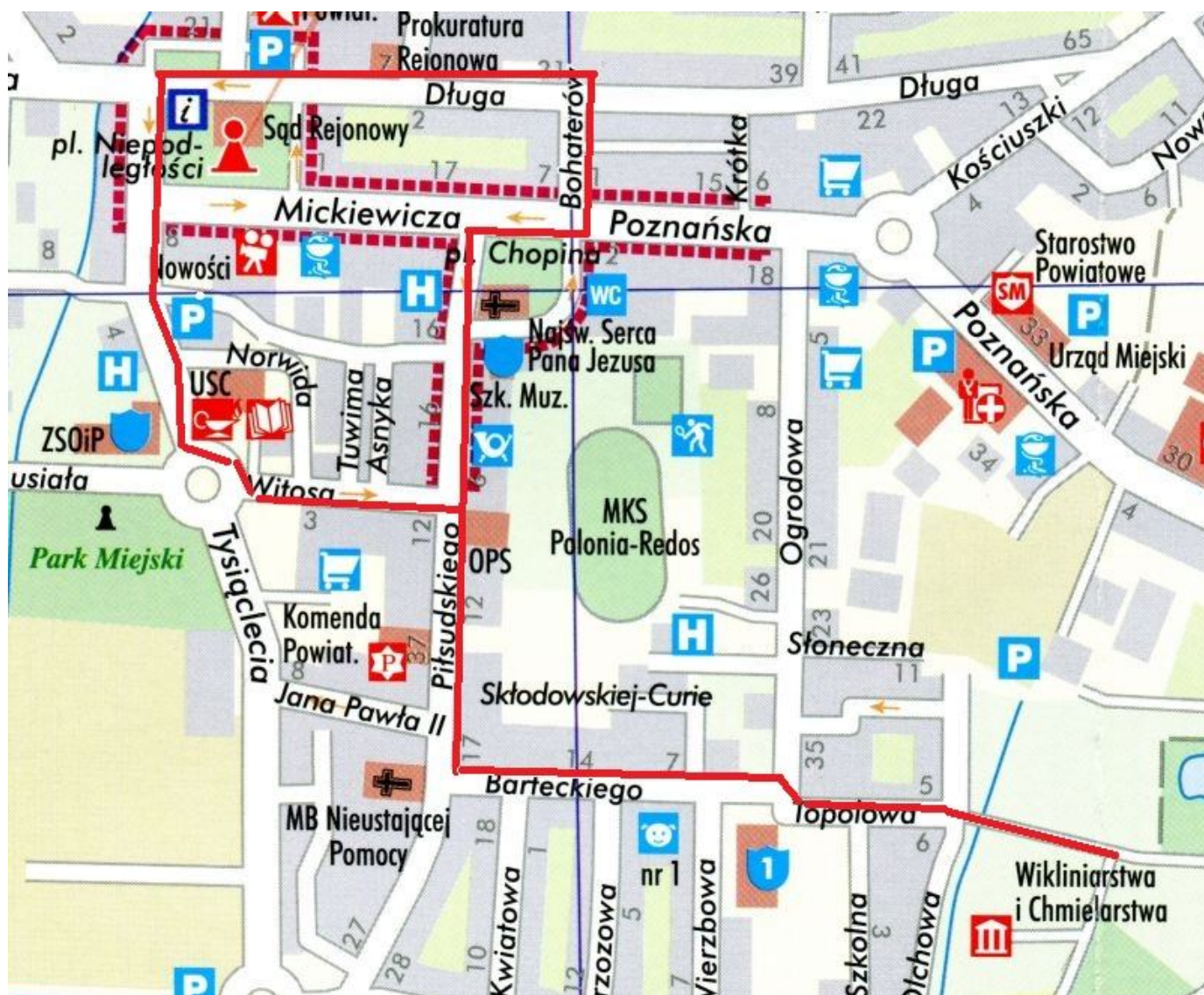
Możliwa ilość punktów do uzyskania:

300

Punkty uzyskane:



Pytania związane z Nowym Tomysłem konsultowano
z Panem **Ryszardem Ratajczakiem** – podinspektorem ds. informacji gminnych



Trasa spaceru po
Nowym Tomysłu
(zaznaczona
kolorem
czerwonym)